



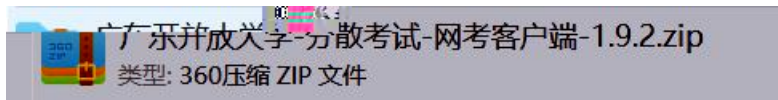
(一) 登录模拟考试

(二) 模拟考试过程中摄像头保持正常开启

(三) 抓拍测试

1

1



2

1

XX

.exe

•
•



3

6

启明软件



*

*

QQ teamview




3

课程	层次	专业	考试进入时间	考试时间周期	剩余考试次数	操作
测试课程	不限		2024-06-12 00:00:00 ~ 2024-06-29 00:00:00		95	进入考试 查观分



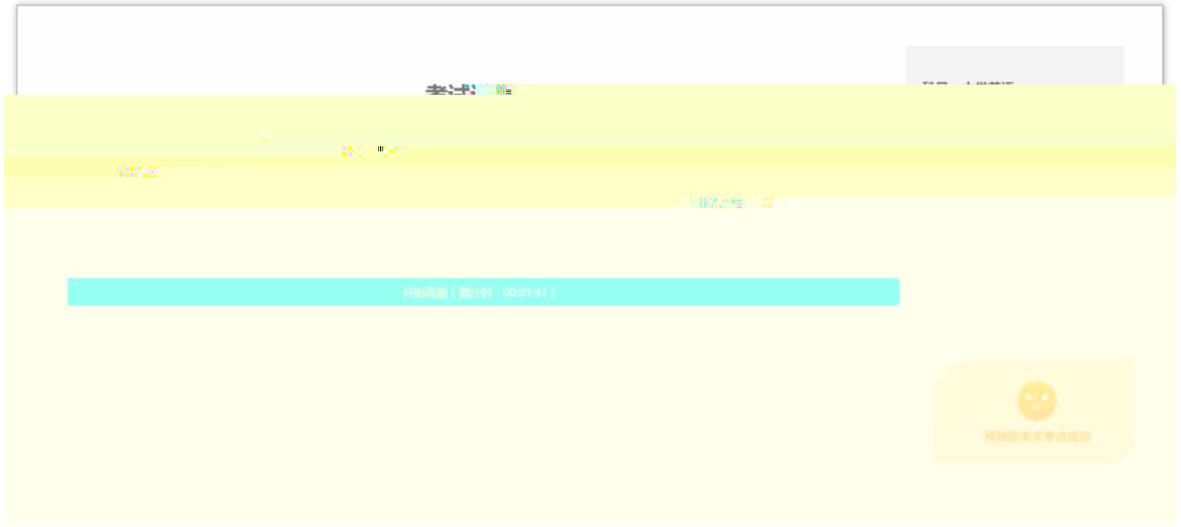
人脸识别



操作提示:

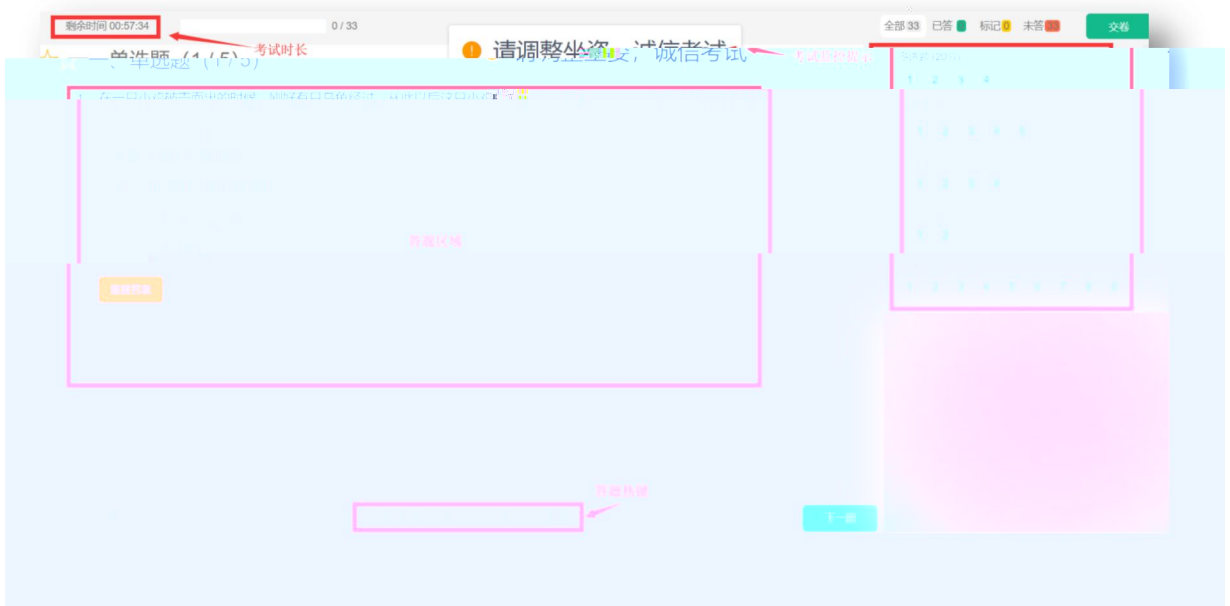
1. 请先确保摄像头设备已连接并能正常工作;
2. 请保持光源充足, 不要逆光操作;
3. 请保证脸部正面向摄像头, 并适当调整姿势保证整个脸部能够进入左侧识别画面;
4. 系统识别通过后, 将自动跳转进入考试界面;

[我的底照](#) [开始识别](#)



●

●





重置答案

单选题 (19分)

1 2 3 4 5

多选题 (20分)

1 2 3 4

判断题 (20分)

1 2 3 4 5

填空题 (20分)

1 2 3 4

简答题 (20分)

1 2

剩余时间 00:59:09 0 / 31 全部 31 已答 标记 未答 交卷

1、杆件变形的基本形式有哪几种? 何谓构件的强度, 刚度和稳定性? (10分)

编辑 打印 粘贴 上传 撤回上传 下载 撤回下载

+

点击+上传图片(最多上传6张图片)

一、单选题 (19分)

1 2 3 4 5

二、多选题 (20分)

1 2 3 4

三、判断题 (20分)

1 2 3 4 5

四、填空题 (20分)

1 2 3 4

五、简答题 (20分)

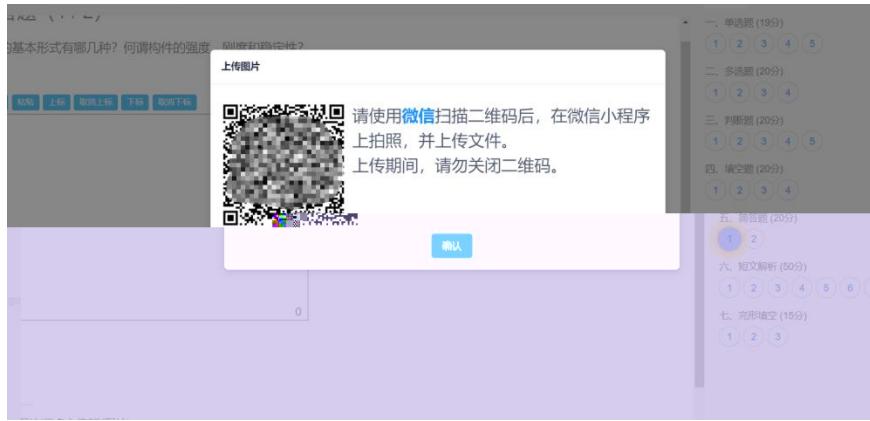
1 2

六、短文解析 (50分)

1 2 3 4 5 6 7 8

七、完形填空 (15分)

1 2 3



确认交卷

已答题目：1
未答题目：32
标记题目：0

取消

确定

考试已结束



考后说明:

考试结束，最终成绩待评卷完后由教务部公布。

[返回主页](#)

4


1

启明软件

当前所在位置：在线考试

课程	层次	专业	考试开放时间	剩余考试次数
大学英语	不限		2018-11-01 00:00:00	99
			2018-12-31 00:00:00	

演示账号 | 退出登录

底照 

学号 YS2018001

身份证号 YS2018001

学习中心 演示中心

修改密码

2

启明软件

在线考试

在线练习

离线考试

修改密码

< 返回

当前所在位置：修改密码

保存